

Quiz Ecriture et Mathématiques

A partir de la boîte à outils des syllabogrammes ci-dessous, déterminez les prénoms cachés derrière leurs glyphes.



A



Bé



E



I



JI



JO



KI
SFX



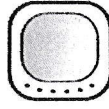
LÉ



LI



NÉ



PA



SA




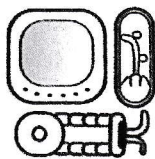
SÉ



TA
SFX



YA
SFX



Mathématiques

1. Au Xème siècle, Tikal comptait habitants.

$$\begin{array}{r} 8000 \times 12 \\ 400 \times 10 \\ 20 \times 0 \\ 0 \end{array}$$

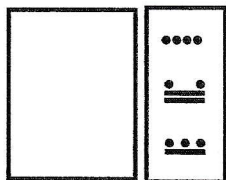


4. Au sud, l'acropole centrale aligne sur mètres plusieurs palais pour l'élite et l'administration.

$$215 = 20 \times 10 + 15$$


?

2. Une expédition découvrit ses ruines en ?



?

5. Le temple IV est le plus haut édifice précolombien avec ses mètres.



?

3. Le temple du grand jaguar culmine à 47 mètres.

$$47 = 20 \times 2 + 7$$

?

6. Tikal comprend hectares protégés en parc national.

$$\begin{array}{r} 8000 \times 7 \\ 400 \times 4 \\ 20 \times 0 \\ 0 \end{array}$$

?