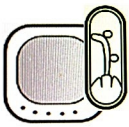


Corrigé du Quiz

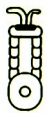


PA



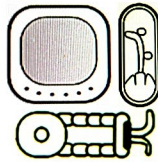
KI

SFX




TA

SFX



PA - KI - TA

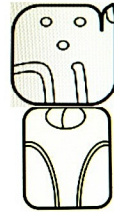
Paquita



JO



SÉ



JO - SÉ

José



LI



JI



YA

PFX



LI - JI - YA

Ligia



I




SA



Bé

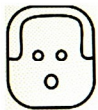


LÉ



I - SA - Bé - LÉ

Isabelle



E



LI



A



NÉ



E - LI - A - NÉ

Eliane

Mathématiques

1. Au Xème siècle, Tikal comptait habitants.

8000x12	≡
400x10	=
20x0	⊖
0	⊖

4. Au sud, l'acropole centrale aligne sur mètres plusieurs palais pour l'élite et l'administration.

215=	≡
20x10+15	≡

2. Une expédition découvrit ses ruines en .

400x4	⋯
20x12	≡
8	⋯

5. Le temple IV est le plus haut édifice précolombien avec ses mètres.

65=	⋯
20x3+5	—

3. Le temple du grand jaguar culmine à mètres.

47=	⋯
20x2+7	—

6. Tikal comprend hectares protégés en parc national.

8000x7	≡
400x4	⋯
20x0	⊖
0	⊖